

Pruebas de Acceso a Estudios de Grado- P.A.E.G.

Materia: **Geografía**

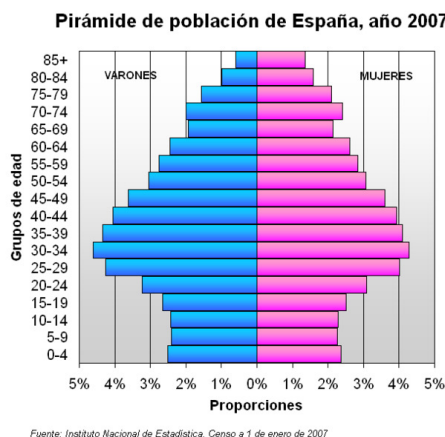
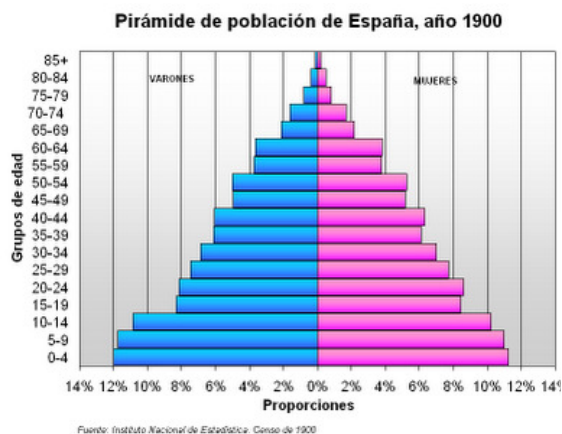
Este examen consta de dos opciones, opción A y B. El alumno deberá contestar **sólo a una de ellas**. Como criterio general de corrección para el conjunto de la prueba se valorará la presentación, la ortografía y la redacción.

OPCIÓN A:

I. PRÁCTICA (Puntuación: 3 puntos)

Atendiendo a las pirámides de población de España en 1900 y 2007, responda:

- 1.- Diferencias fundamentales entre ambas pirámides.
- 2.- Causas que explican las principales transformaciones.
- 3.- Consecuencias derivadas.



II. TEMA (Puntuación: 3 puntos)

Desarrolle el siguiente tema:

- Unidades de relieve: Meseta. Rebordes montañosos.

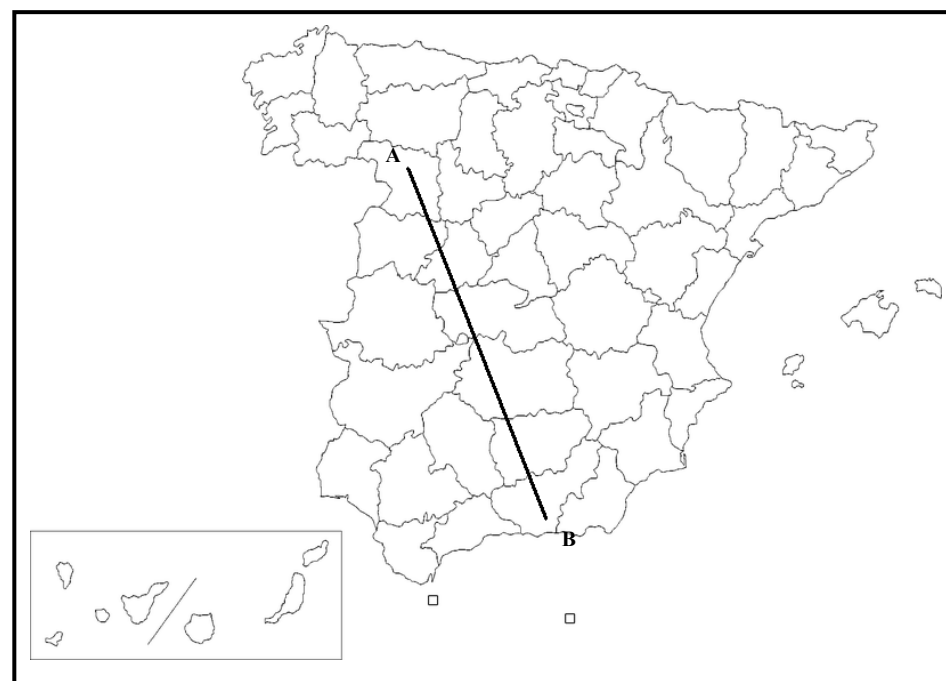
III. CONCEPTOS (Puntuación: 2 puntos)

Defina con la mayor precisión posible, y de forma breve, estos **cuatro** conceptos e indique, siempre y cuando sea posible, un ejemplo relativo a España o a Castilla-La Mancha:

- P.A.C.; Lluvia ácida; Energía no renovable; Ciudad-jardín.

IV. LOCALIZACIÓN (Puntuación: 2 puntos)

Cite las cordilleras, ríos y provincias que atraviesa la línea desde “A” hasta “B”.



Pruebas de Acceso a Estudios de Grado- P.A.E.G.

Materia: **Geografía**

Este examen consta de dos opciones, opción A y B. El alumno deberá contestar **sólo a una de ellas**. Como criterio general de corrección para el conjunto de la prueba se valorará la presentación, ortografía y redacción

OPCIÓN B:

I. PRÁCTICA (Puntuación: 3 puntos)

Atendiendo al siguiente mapa de vertientes y cuencas hidrográficas, responda:

1.- Relacione la disposición y el tamaño de las cuencas hidrográficas con la situación de las unidades del relieve.



II. TEMA (Puntuación: 3 puntos)

Desarrolle el siguiente tema:

- Espacios industriales. Importancia del sector secundario: crisis económica y reconversión industrial. El sector industrial en la actualidad. Sectores de producción (maduros, dinámicos y sectores punta).

III. CONCEPTOS (Puntuación: 2 puntos)

Defina con la mayor precisión posible, y de forma breve, estos **cuatro** conceptos e indique, siempre y cuando sea posible, un ejemplo relativo a España o a Castilla-La Mancha:

Cárcava; Pesca de altura; Movimiento antiglobalización; Éxodo rural.

IV. LOCALIZACIÓN (Puntuación: 2 puntos)

Cite las cordilleras, ríos y provincias que atraviesa la línea desde “A” hasta “B”.

