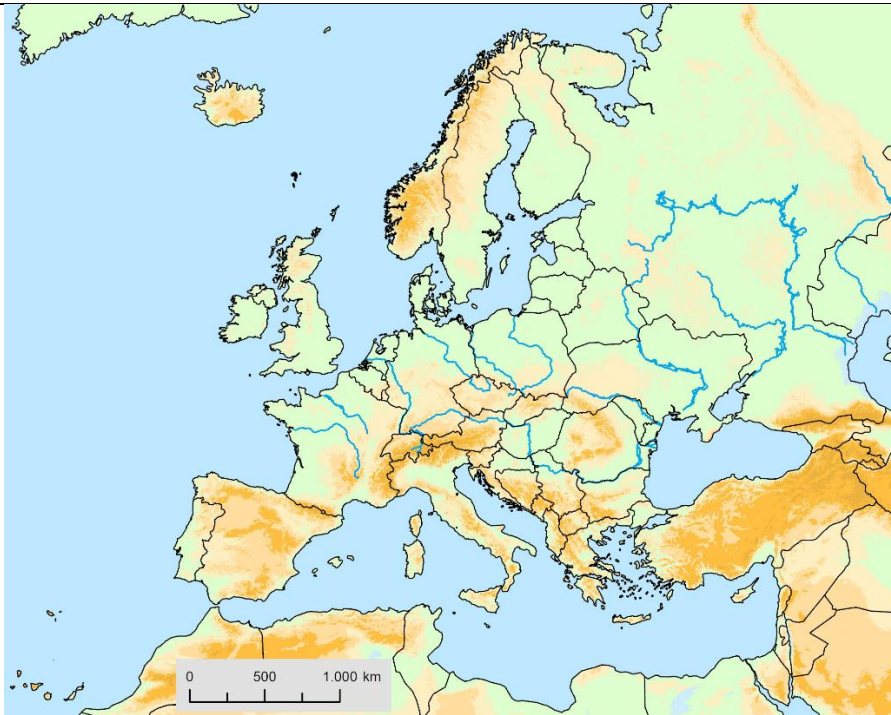


INSTRUCCIONES:

- El estudiante deberá contestar a los cuatro ejercicios. Cada uno de ellos tiene una puntuación máxima de 2,5 puntos.
- Los ejercicios 3 y 4 tienen dos opciones, pudiendo elegir entre la opción A o B. Si se contesta más de una opción, solo se corregirán las respuestas correspondientes a la primera.
- Como criterio general de corrección, se valorará la coherencia, cohesión, corrección gramatical, léxica y ortográfica y su presentación, penalizándose hasta un 10% su incumplimiento (hasta 1 punto).
- Todas las respuestas deben incluir el número de la cuestión.

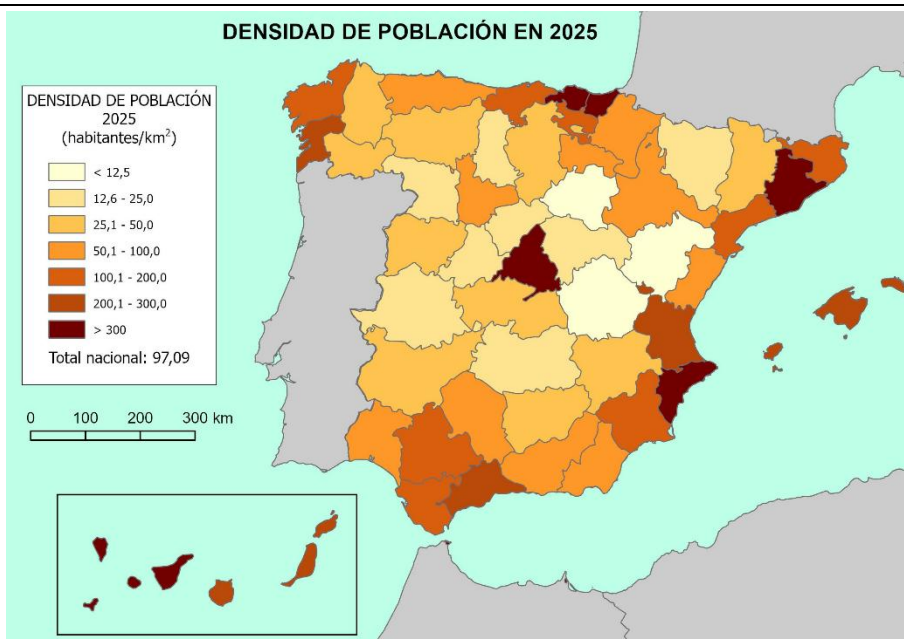
Ejercicio 1. Geografía de Europa



Cuestiones por responder

- 1.1. ¿Qué países europeos son insulares? **(0,50 puntos)**
- 1.2. ¿Cuáles son las cuatro penínsulas más extensas de Europa? Nombra los países que las ocupan. **(1 punto)**
- 1.3. Cita dos grandes ríos europeos que desembocan en el Mar Negro. **(0,50 puntos)**
- 1.4. Cita dos grandes ríos europeos que desembocan en el Mar del Norte. **(0,50 puntos)**

Ejercicio 2. Población y densidad de población



Cuestiones por responder

- 2.1. Indica qué tipo de mapa es y describe la información que aporta. **(0,5 puntos)**
- 2.2. Identifica las áreas de alta densidad y las áreas de baja densidad. Nombra las provincias con mayores densidades y las que se encuentran en riesgo de despoblamiento en 2025. **(1 punto)**
- 2.3. Razona cuáles han sido las zonas emisoras y receptoras de población en la edad contemporánea de España, sus factores explicativos y consecuencias. **(1 punto)**

Ejercicio 3. Elige una de las siguientes opciones (3A o 3B) y responde a sus cuestiones.

Opción 3.A.- Análisis de paisaje: Montes de Toledo

Cuestiones por responder



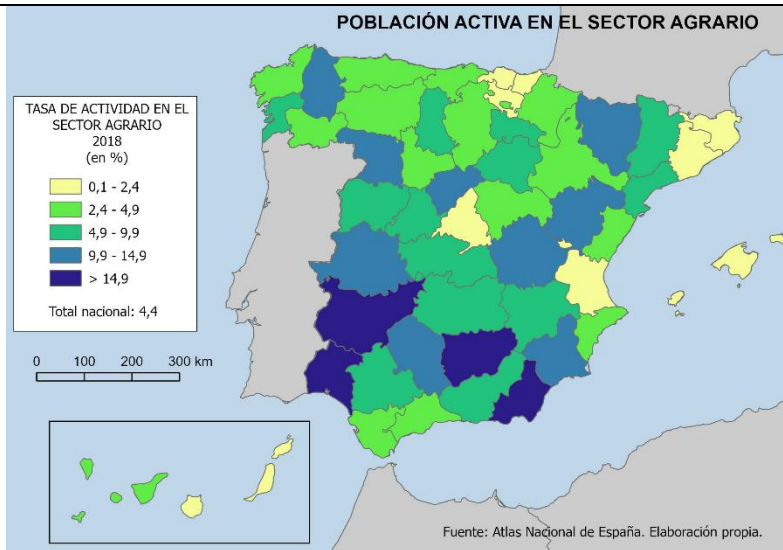
3.A.1. ¿De qué **tipo de paisaje** se trata, natural o humanizado? **Razona** tu respuesta. **(0,75 punto)**

3.A.2. Explica la evolución geológica de los Montes de Toledo. **Razona** por qué no es una cordillera joven como los Pirineos. **(1 punto)**

3.A.3. Indica la vertiente hidrográfica en la que se encuentra esta zona de España, sus ríos más importantes y sus características principales. **(0,75 puntos)**

Opción 3.B. Población activa en el sector agrario

Cuestiones por responder



3.B.1. Indica qué tipo de mapa es y **describe** la información que aporta. **(0,5 puntos)**

3.B.2. Cita las cuatro provincias con las tasas de actividad más altas y otras cuatro provincias con las tasas más bajas. **(0,5 puntos)**

3.B.3. Razona las causas que explican las diferencias en las tasas de actividad entre Madrid y Jaén (carácter rural o urbano, uso del suelo, actividades económicas, tamaño de las explotaciones). **(0,75 puntos)**

3.B.4. ¿Qué tipo de mano de obra se utiliza mayormente en el sector agrario en la actualidad? **Razona** tu respuesta. **(0,75 puntos)**

Ejercicio 4. Elige uno de los dos listados de conceptos (opción A o B) para definir e identificar.

Opción 4.A

Opción 4.B

Define los siguientes conceptos: **(1.5 puntos)**

4.A.1. Meridiano

4.A.2. Borrasca

4.A.3. UE

Identifica el concepto al que corresponde cada definición: **(1 punto)**

4.A.4. Espacio donde se concentran empresas e instituciones dedicadas a la tecnología y la innovación, con el objetivo de fomentar la colaboración entre ellas y con centros de investigación y universidades.

4.A.5. Norma aprobada en 1982 que otorga autogobierno a Castilla-La Mancha.

Define los siguientes conceptos: **(1.5 puntos)**

4.B.1. ONU.

4.B.2. Cuenca sedimentaria

4.B.3. Turismo rural

Identifica el concepto al que corresponde cada definición: **(1 punto)**

4.B.4. Área urbana continua formada por la expansión y unión de varias ciudades o municipios cercanos, manteniendo cada una cierta autonomía administrativa.

4.B.5. Unidad administrativa básica del territorio español gobernada por un ayuntamiento.